

EXERCICE 1 HISTOIRE DE L'ÂGE DE LA TERRE

« La Terre a un âge et cet âge a une histoire peu banale. Calculé à 4000 ans avant J.-C. à la Renaissance, il sera estimé à quelques dizaines de millions d'années à la fin du XIX^{ème} siècle. Il est maintenant fixé à 4,55 milliards d'années. Comment notre planète a-t-elle pu vieillir de plus de 4 milliards d'années en 400 ans ? ».

Krivine, H. *Histoire de l'âge de la Terre*. En ligne : <http://www.cnrs.fr>

L'objectif de l'exercice est d'analyser différents arguments, scientifiques ou non, sur lesquels on s'est appuyé, au cours de l'histoire, pour évaluer l'âge de la Terre.

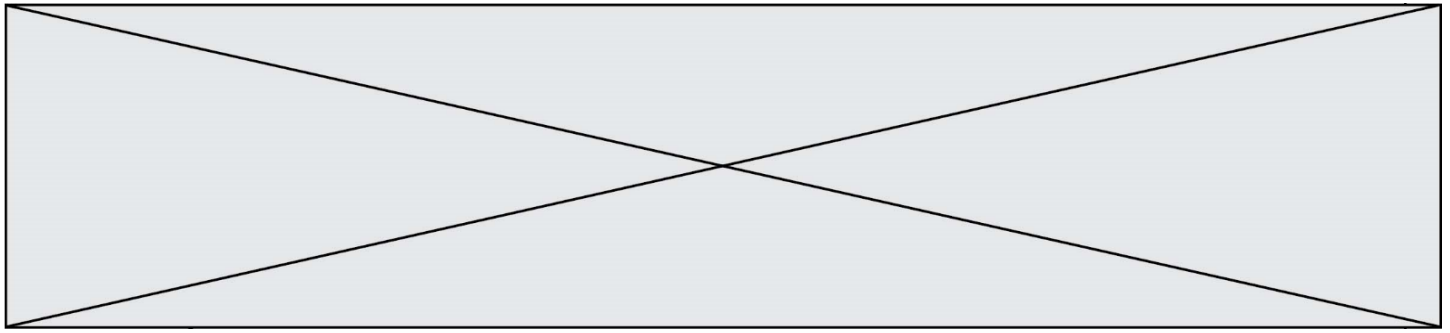
Document 1 - L'âge biblique

« Pour Aristote [4^e siècle av. J.-C.], la Terre a toujours existé, tandis que les grandes religions monothéistes (juive, chrétienne et musulmane) introduisirent une création du monde. Notons qu'à la différence de la chronologie moderne, il s'agissait de l'apparition quasi-simultanée de l'Univers, de la Terre, des plantes, des animaux, du genre humain. Pour les savants de la Renaissance, le récit biblique, incontestable, était la seule base de calcul possible. La Bible contient une chronologie détaillée des premières générations : Adam a vécu 930 ans, il enfanta Seth à l'âge de 130 ans, qui engendra Énoch à 105 ans, qui engendra Qénân à 90 ans, etc. Il est alors facile de déduire la date de naissance de Noé : 1 056 ans après la création. Comme Noé avait 600 ans quand arriva le Déluge, ce dernier est daté de 1 656 ans après la Création. Abraham naît 292 années plus tard. [...] Donnons quelques dates de naissance [de la Terre] établies sur cette base : 3993 av. J.-C., selon Johannes Kepler (1571-1630), 3998 av. J.-C., selon Isaac Newton (1643-1727), 4004 av. J.-C., selon l'archevêque anglican James Ussher [en 1650]. »

Krivine, H. *L'Âge de la Terre*.

Document 2 - Les temps de sédimentation et d'érosion par Charles Darwin (1859)

« Ainsi que Lyell l'a très justement fait remarquer, l'étendue et l'épaisseur de nos couches de sédiments sont le résultat et donnent la mesure de la dénudation¹ que la croûte terrestre a éprouvée ailleurs. Il faut donc examiner par soi-même ces



Document 3 – Âge de la Terre et évolution biologique par Charles Darwin (1859)

« Sir W. Thompson⁴ admet que la consolidation de la croûte terrestre ne peut pas remonter à moins de 20 millions ou à plus de 400 millions d'années, et doit être plus probablement comprise entre 98 et 200 millions. L'écart considérable entre ces limites prouve combien les données sont vagues, et il est probable que d'autres éléments doivent être introduits dans le problème. M. Croll estime à 60 millions d'années le temps écoulé depuis le dépôt des terrains cambriens⁵; mais, à en juger par le peu d'importance des changements organiques⁶ qui ont eu lieu depuis le commencement de l'époque glaciaire, cette durée paraît courte relativement aux modifications nombreuses et considérables que les formes vivantes ont subies depuis la formation cambrienne. Quant aux 140 millions d'années antérieures, c'est à peine si l'on peut les considérer comme suffisantes pour le développement des formes variées qui existaient déjà pendant l'époque cambrienne. [...]. Je considère les archives géologiques⁷, selon la métaphore de Lyell, comme une histoire du globe incomplètement conservée, écrite dans un dialecte toujours changeant, et dont nous ne possédons que le dernier volume traitant de deux ou trois pays seulement. Quelques fragments de chapitres de ce volume et quelques lignes éparses de chaque page sont seuls parvenus jusqu'à nous. Chaque mot de ce langage changeant lentement, plus ou moins différent dans les chapitres successifs, peut représenter les formes qui ont vécu, qui sont ensevelies dans les formations successives ».

Darwin, C. (1859). *L'origine des espèces*, Chapitre "De l'apparition soudaine de groupes d'espèces alliées dans les couches fossilifères les plus anciennes".

Quelques précisions

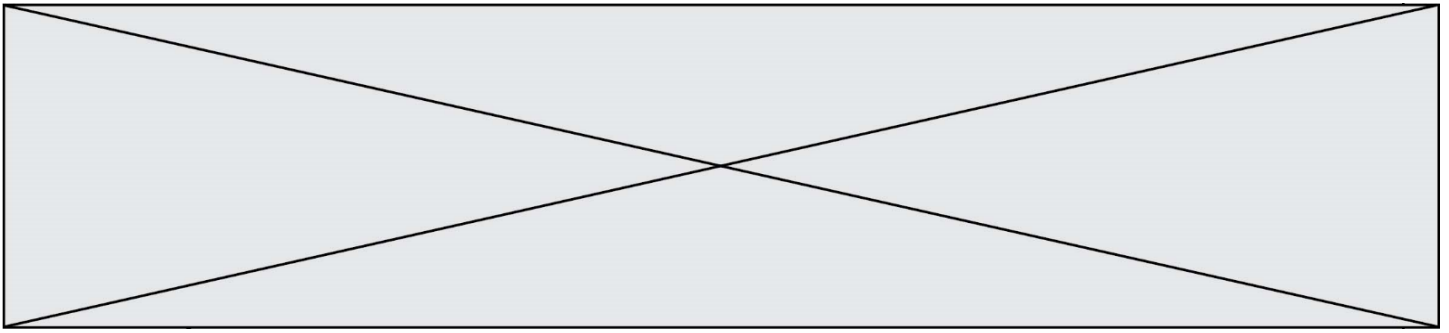
4 - Sir W. Thompson (1824-1907), également appelé Lord Kelvin, était un physicien renommé qui a estimé l'âge de la Terre par le temps de refroidissement des matériaux qui la compose.

5 - Les terrains cambriens désignent des roches datées de l'époque du Cambrien (période géologique très ancienne).

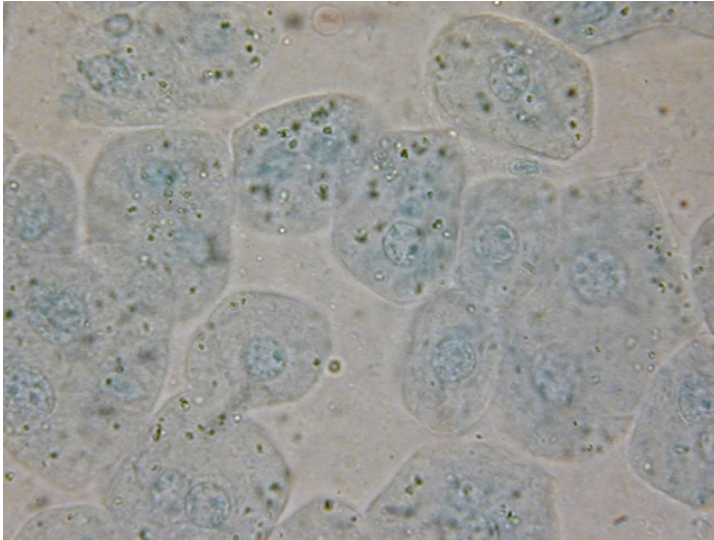
6 - Les changements organiques désignent les variations de caractères liés à l'évolution des espèces qui peuvent être observées en comparant des fossiles présents dans des strates géologiques successives (donc d'âges différents).

7 - Les archives géologiques désignent les roches que l'on peut observer actuellement et qui nous permettent de reconstituer le passé par l'étude de ce qui les compose (fossiles, disposition des strates...).

1- En comparant les documents 1 et 2, identifier parmi les argumentations fournies celles que l'on peut qualifier de scientifiques. Justifier.

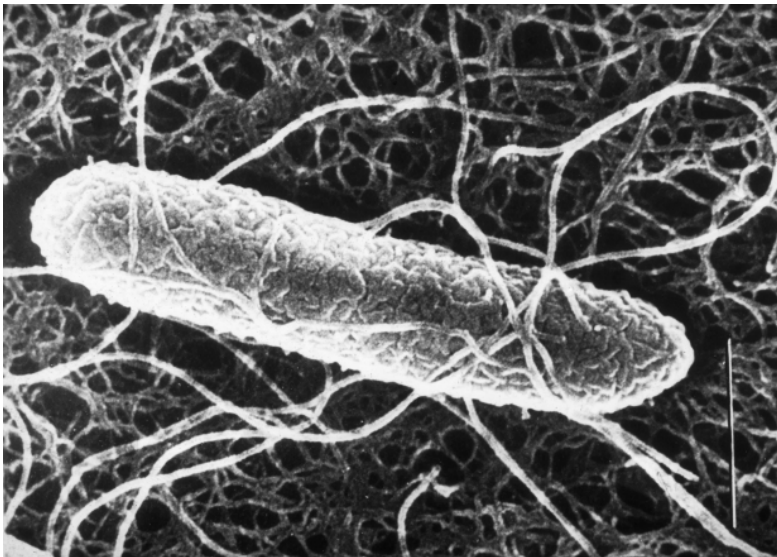


b) Cellules de foie humain



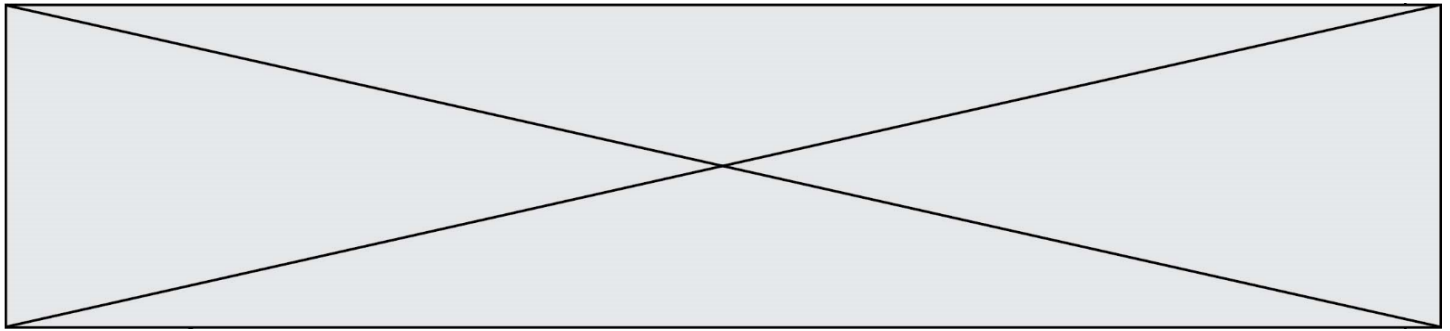
|-----| : 25 micromètres
Source : snv.jussieu.fr

(c) Bactérie *Escherichia coli*



|---| : 0,5 micromètres
Source INRA.fr

- 1- À partir des photographies du document 1, déterminer la taille (dimension la plus longue) d'une cellule de chaque type (a, b et c) en explicitant vos calculs.
- 2- Identifier la ou les observations du document 1 qui auraient pu être faites avec le matériel de l'époque de Schleiden et Schwann.
- 3- Expliquer en quoi de telles observations ont permis de formuler la théorie cellulaire.



Résultats obtenus :

Volume de sang utilisé (en mL)	Nombre de globules rouges par mL de sang	Surface d'un globule rouge (en m ²)	Surface totale des globules rouges (en m ²)	Surface de lipides mesurée dans la cuve (en m ²)
1	$4,74 \times 10^9$	$99,4 \times 10^{-12}$	0,47	0,94

D'après Extrait de Biologie: Les manuels visuels pour la Licence (Lelievre et al.)

4- À partir des informations apportées par le document 2 et de vos connaissances, recopier la bonne proposition parmi les séries de quatre ci-dessous :

4.a- Les globules rouges sont différents des cellules a et b observées dans la question 1 car :

- Ils ne contiennent pas de membrane.
- Ils ne contiennent pas de lipides.
- Ils ne contiennent pas de noyau.
- Ils contiennent différents types de membrane.

4.b- L'expérience de Gortel et Grendel montre que la membrane des globules rouges :

- Est constituée d'une simple couche de lipides
- Est constituée d'une double couche de lipides
- Est deux fois plus fine que les membranes des autres cellules.
- Est deux fois plus épaisse que la membrane des autres cellules.

4.c- La membrane plasmique est constituée :

- De protéines uniquement
- De phospholipides et de protéines
- D'ADN et de phospholipides
- De phospholipides uniquement.

Modèle CCYC : ©DNE

Nom de famille (naissance) :


(Suivi s'il y a lieu, du nom d'usage)

Prénom(s) :

N° candidat : N° d'inscription :

(Les numéros figurent sur la convocation.)

Né(e) le : / /

 Liberté • Égalité • Fraternité
RÉPUBLIQUE FRANÇAISE

1.1

Partie 2. Des nano vecteurs s'inspirant de la membrane cellulaire pour améliorer les traitements anticancéreux

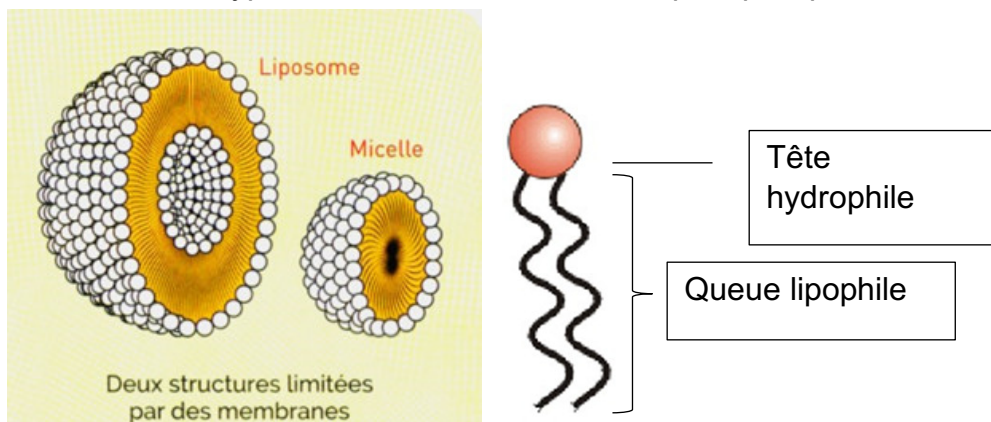
Document 3 : les nanotechnologies au service de la médecine

3a- Principe et intérêt des nano vecteurs

Lors des traitements anticancéreux classiques, des doses importantes de médicament sont ingérées car seule une petite partie est efficace et atteint l'organe malade. Aussi, d'autres organes peuvent être touchés, occasionnant de nombreux effets secondaires (perte de cheveux par exemple). Pour limiter ces effets, il faudrait que le médicament agisse uniquement sur les cellules ciblées ce qui permettrait aussi de réduire la dose ingérée. Enfermer le médicament dans un nano vecteur lipidique pourrait être la solution !

3b : Deux types de vecteurs lipidiques

Schéma des deux types de vecteurs et détail d'un phospholipide



Deux types de vecteurs lipidiques peuvent enfermer un médicament. Ils sont obtenus en agitant vigoureusement un mélange d'eau et de phospholipides.

Des marqueurs protéiques appropriés peuvent être rajoutés dans leur enveloppe pour qu'ils soient reconnus par les cellules cibles. Ils permettent la fusion de la vésicule et de la membrane plasmique (de même nature), libérant le contenu de la vésicule directement dans la cellule cible.

5- À partir des informations fournies par le document 3, expliquer en quoi l'utilisation des vecteurs lipidiques est intéressante pour administrer les médicaments anticancéreux.

6- En utilisant vos connaissances, choisir le type de vecteur le plus pertinent pour transporter un médicament anticancéreux hydrophile