

Modèle CCYC : ©DNE

Nom de famille (naissance) :

(Suivi s'il y a lieu, du nom d'usage)

--	--	--	--	--	--	--	--	--	--	--	--	--	--	--	--	--	--	--	--	--

Prénom(s) :

--	--	--	--	--	--	--	--	--	--	--	--	--	--	--	--	--	--	--	--	--

N° candidat :

--	--	--	--	--	--	--	--	--	--	--	--	--	--	--	--

N° d'inscription :

--	--	--



Né(e) le :

(Les numéros figurent sur la convocation.)

		/			/				
--	--	---	--	--	---	--	--	--	--

1.1

ÉPREUVES COMMUNES DE CONTRÔLE CONTINU

CLASSE : Première

E3C : E3C1 E3C2 E3C3

VOIE : Générale Technologique Toutes voies (LV)

ENSEIGNEMENT : Enseignement scientifique

DURÉE DE L'ÉPREUVE : 2h

Niveaux visés (LV) : LVA LVB

Axes de programme :

CALCULATRICE AUTORISÉE : Oui Non

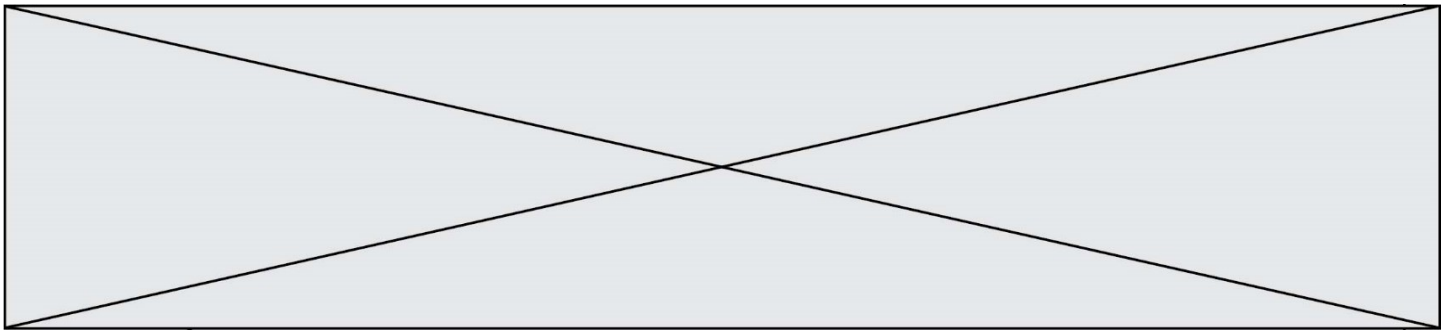
DICTIONNAIRE AUTORISÉ : Oui Non

Ce sujet contient des parties à rendre par le candidat avec sa copie. De ce fait, il ne peut être dupliqué et doit être imprimé pour chaque candidat afin d'assurer ensuite sa bonne numérisation.

Ce sujet intègre des éléments en couleur. S'il est choisi par l'équipe pédagogique, il est nécessaire que chaque élève dispose d'une impression en couleur.

Ce sujet contient des pièces jointes de type audio ou vidéo qu'il faudra télécharger et jouer le jour de l'épreuve.

Nombre total de pages : 9



EXERCICE 1 L'HISTOIRE DE L'ÂGE DE LA TERRE

« La Terre a un âge et cet âge a une histoire peu banale. Calculé à 4000 ans avant J.-C. à la Renaissance, il sera estimé à quelques dizaines de millions d'années à la fin du XIX^{ème} siècle. Il est maintenant fixé à 4,55 milliards d'années. Comment notre planète a-t-elle pu vieillir de plus de 4 milliards d'années en 400 ans ? ».

Krivine, H. *Histoire de l'âge de la Terre*. En ligne : <http://www.cnrs.fr>

L'exercice consiste à étudier quelques aspects de l'évolution des savoirs scientifiques concernant l'âge de la Terre au cours du XIX^e siècle.

Document 1. Un exemple de destruction d'une falaise due à l'érosion.



Le "Grind of the Navir" correspond à une ouverture faite par la mer dans une falaise des îles Shetland. Cette ouverture est élargie d'hiver en hiver par la houle qui s'y engouffre

Lyell, C. (1833). *Principles of geology*. Sixième édition.

Modèle CCYC : ©DNE

Nom de famille (naissance) :

(Suivi s'il y a lieu, du nom d'usage)

Prénom(s) :

N° candidat :

N° d'inscription :



Liberté • Égalité • Fraternité
RÉPUBLIQUE FRANÇAISE

Né(e) le :

(Les numéros figurent sur la convocation.)

1.1

Document 2. L'argument des temps de sédimentation et d'érosion par Charles Darwin, extrait de « L'Origine des espèces » (1859).

“Ainsi que Lyell l'a très justement fait remarquer, l'étendue et l'épaisseur de nos couches de sédiments sont le résultat et donnent la mesure de la dénudation¹ que la croûte terrestre a éprouvée ailleurs. Il faut donc examiner par soi-même ces énormes entassements de couches superposées, étudier les petits ruisseaux charriant de la boue, contempler les vagues rongant les antiques falaises, pour se faire quelque notion de la durée des périodes écoulées [...]. Il faut surtout errer le long des côtes formées de roches modérément dures, et constater les progrès de leur désagrégation. [...] Rien ne peut mieux nous faire concevoir ce qu'est l'immense durée du temps, selon les idées que nous nous faisons du temps, que la vue des résultats si considérables produits par des agents atmosphériques² qui nous paraissent avoir si peu de puissance et agir si lentement. Après s'être ainsi convaincu de la lenteur avec laquelle les agents atmosphériques et l'action des vagues sur les côtes rongent la surface terrestre, il faut ensuite, pour apprécier la durée des temps passés, considérer, d'une part, le volume immense des rochers qui ont été enlevés sur des étendues considérables, et, de l'autre, examiner l'épaisseur de nos formations sédimentaires. [...]

J'ai vu, dans les Cordillères⁴, une masse de conglomérat⁴ dont j'ai estimé l'épaisseur à environ 10 000 pieds [3km] ; et, bien que les conglomérats aient dû probablement s'accumuler plus vite que des couches de sédiments plus fins, ils ne sont cependant composés que de cailloux roulés et arrondis qui, portant chacun l'empreinte du temps, prouvent avec quelle lenteur des masses aussi considérables ont dû s'entasser. [...] M. Croll démontre, relativement à la dénudation produite par les agents atmosphériques, en calculant le rapport de la quantité connue de matériaux sédimentaires que charrient annuellement certaines rivières, relativement à l'étendue des surfaces drainées, qu'il faudrait six millions d'années pour désagréger et pour enlever au niveau moyen de l'aire totale qu'on considère une épaisseur de 1000 pieds [305 mètres] de roches. Un tel résultat peut paraître étonnant, et le serait encore si, d'après quelques considérations qui peuvent faire supposer qu'il est exagéré, on le réduisait à la moitié ou au quart. Bien peu de personnes, d'ailleurs, se rendent un compte exact de ce que signifie réellement un million”.

Darwin, C. *Du laps de temps écoulé, déduit de l'appréciation de la rapidité des dépôts et de l'étendue des dénudations*. L'Origine des espèces. (p. 393 - 398).

Voir suite du document 2 page suivante



Glossaire :

- 1 - La dénudation correspond à l'effacement des reliefs par érosion.
- 2 - Les agents atmosphériques désignent les agents responsables de l'érosion comme la pluie, le gel, le vent.
- 3- Les Cordillères désignent une chaîne de montagnes.
- 4 - Un conglomérat est une roche issue de la dégradation mécanique d'autres roches et composée de sédiments liés par un ciment naturel.

Document 3. L'argument du temps de refroidissement par William Thomson, également appelé Lord Kelvin (1824-1907).

“On constate aujourd’hui que lorsqu’on s’enfonce sous la Terre on gagne en moyenne de l’ordre de 3 °C tous les 100 mètres. À la naissance de la Terre, ce gradient était beaucoup plus élevé, presque infini : on passait très rapidement – c’est-à-dire sur une très courte distance – de la température (basse) de surface à la température (élevée) du cœur ; puis le froid, petit à petit, gagne les profondeurs et le gradient diminue, pour atteindre sa valeur actuelle. La façon dont ce gradient diminue avec le temps peut être déterminée théoriquement grâce à l’équation de Fourier⁵ : [...] on en déduit le temps nécessaire pour faire baisser le gradient de température jusqu’à sa valeur actuelle. [...] Kelvin aboutit en 1863 à la fourchette 20-400 millions d’années. [...] La validité de l’équation de Fourier, toujours testée avec succès, semble impossible à mettre en défaut ; elle avait presque la même autorité que la loi de la gravitation. [...]

Certainement un des plus grands physiciens de son temps, Kelvin jouissait d’une autorité immense ; de plus son évaluation semblait confirmée, comme nous l’avons vu, par d’autres méthodes indépendantes. Aussi les temps – relativement – courts des physiciens vont être finalement acceptés par la communauté scientifique dans la seconde moitié du XIX^{ème} siècle : après tout, une Terre chaude pouvait avoir accéléré les processus physico-chimiques. Mais Charles Darwin (1809-1882) n’y croyait pas.”

Krivine, H. *L'Âge de la Terre*.

Glossaire :

- 5 - L'équation de Fourier ou équation de la chaleur est une équation introduite initialement en 1807 par Joseph Fourier qui permet de décrire la propagation de la chaleur dans un corps.

Modèle CCYC : ©DNE

Nom de famille (naissance) :


(Suivi s'il y a lieu, du nom d'usage)

Prénom(s) :

N° candidat : N° d'inscription :

(Les numéros figurent sur la convocation.)

Né(e) le : / /



1.1

1 - À partir des documents 1 et 2, présenter les arguments sur lesquels se fonde Charles Darwin pour déterminer l'âge de la Terre.

2– Dans le document 2, Darwin cite l'exemple de l'érosion de conglomérats observés dans les Cordillères, une chaîne de montagnes, mais ne calcule pas explicitement la durée nécessaire à cette érosion. Proposer un ordre de grandeur pour cette durée, compte tenu des analyses de M. Croll et justifier votre réponse.

3- À partir du document 3, donner l'âge de la Terre proposé par William Thomson et expliquer la façon dont il a abouti à ce résultat (Lord Kelvin).

4 – Aujourd'hui, l'âge de la Terre déterminé par les scientifiques est de plus de $4,5 \cdot 10^9$ ans. Proposer une réponse synthétique à la question posée par H. Krivine : « comment notre planète a-t-elle pu vieillir de plus de 4 milliards d'années en 400 ans ? »

Une rédaction structurée et argumentée est attendue.

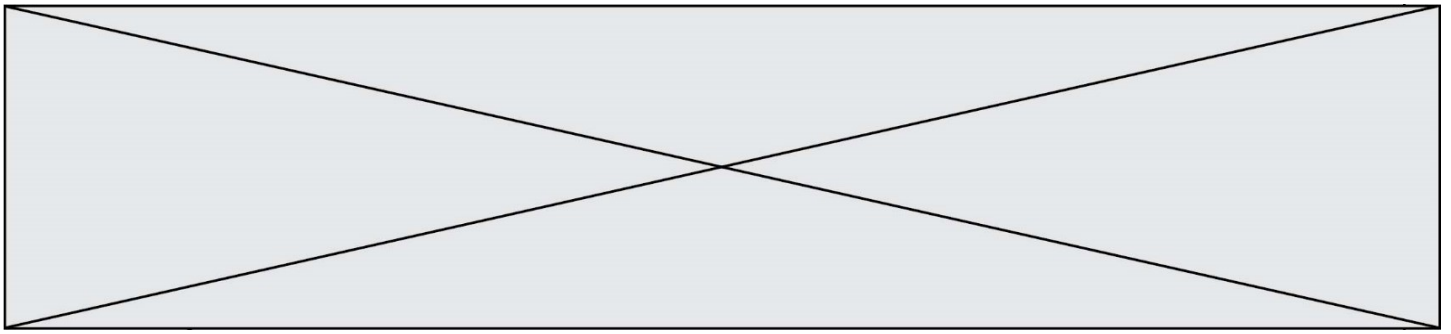
EXERCICE 2

LA DATATION AU ^{14}C ET LA PROTECTION DES ELEPHANTS

L'Union européenne a interdit le commerce de l'ivoire depuis 1989, à l'exception de celui des antiquités acquises avant 1947.

Selon un rapport remis à la Commission européenne en juillet 2018, l'ivoire vendu en Europe proviendrait pourtant essentiellement de défenses d'éléphants abattus récemment. Ce rapport s'appuie sur des résultats obtenus par datation au carbone ^{14}C de l'ivoire saisie par les autorités.

Les trafiquants contournent la loi en faisant passer l'ivoire récent pour de l'ivoire ancien.



Document 1 : Principe de la datation au ^{14}C

« Le carbone 14 (^{14}C) est un isotope radioactif du carbone. Sa demi-vie est de 5 730 ans. Se formant dans la haute atmosphère de la Terre, il existe 1 atome de carbone 14 pour 1 000 milliards de carbone 12 (isotope non radioactif). Comme tout isotope du carbone, le carbone 14 se combine avec l'oxygène de notre atmosphère pour former du CO_2 (dioxyde de carbone). Ce CO_2 est assimilé par les organismes vivants tout au long de leur vie : respiration, alimentation... Lorsque les organismes meurent, ils n'assimilent plus le CO_2 . La quantité de carbone 14 présente dans les organismes diminue alors au cours du temps de façon exponentielle, tandis que celle de carbone 12 reste constante.

La datation repose sur la comparaison du rapport entre les quantités de carbone 12 et de carbone 14 contenues dans un échantillon avec celui d'un échantillon standard de référence. On déduit de cette comparaison « l'âge carbone 14 » de l'échantillon qu'on cherche à dater. Cet « âge carbone 14 » est ensuite traduit en âge réel (ou « âge calendaire »), en le comparant à une courbe-étalon, réalisée par les chercheurs à force de nombreuses mesures complémentaires. On peut ainsi en déduire l'âge de l'objet étudié et remonter jusqu'à 50 000 ans environ (au-delà, la technique n'est pas assez précise). »

Source : CEA

Partie A

1- Parmi les propositions suivantes, quelle est celle qui correspond à la désintégration du carbone 14 ? Il est rappelé que la notation ${}_{-1}^0e$ désigne conventionnellement un électron.

- a) ${}^{18}_8\text{O} \rightarrow {}^{14}_6\text{C} + {}^4_2\text{He}$
- b) ${}^{14}_6\text{C} \rightarrow {}^{14}_7\text{N} + {}_{-1}^0e$
- c) ${}^6_2\text{He} + {}^8_4\text{Be} \rightarrow {}^{14}_6\text{C}$

2- Le document 1 indique que la demi-vie du carbone 14 est de 5730 ans. Expliquer le terme « demi-vie ».

3- On considère un échantillon d'ivoire d'éléphant contenant à un instant donné 16 milliards de noyaux de carbone 14. Calculer le nombre de noyaux de carbone 14 restants au bout de :

3-a- 5 730 ans.

3-b- 11 460 ans.

Modèle CCYC : ©DNE
Nom de famille (naissance) :

--	--	--	--	--	--	--	--	--	--	--	--	--	--	--	--	--	--	--	--	--

(Suivi s'il y a lieu, du nom d'usage)

Prénom(s) :

--	--	--	--	--	--	--	--	--	--	--	--	--	--	--	--	--	--	--	--	--

N° candidat :

--	--	--	--	--	--	--	--	--	--

N° d'inscription :

--	--	--	--

(Les numéros figurent sur la convocation.)

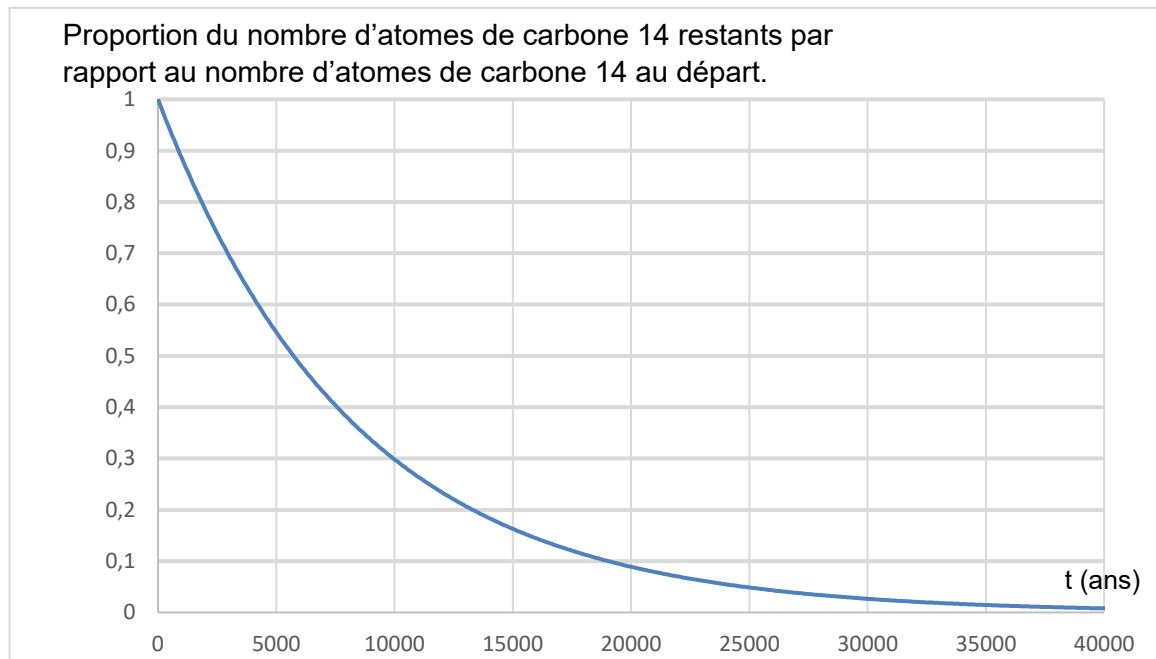


Né(e) le :

--	--	--	--	--	--	--	--	--	--	--	--	--	--	--	--	--	--

1.1

Document 2 : Courbe de décroissance du carbone 14 sur 40 000 ans.



4- Repérer sur le graphique du document 2 la valeur de la demi-vie du carbone 14. On fera figurer les traits de construction sur la courbe reproduite dans l'annexe à rendre avec la copie.

5- Estimer la proportion du nombre de noyaux de carbone 14 restants après 25 000 ans.

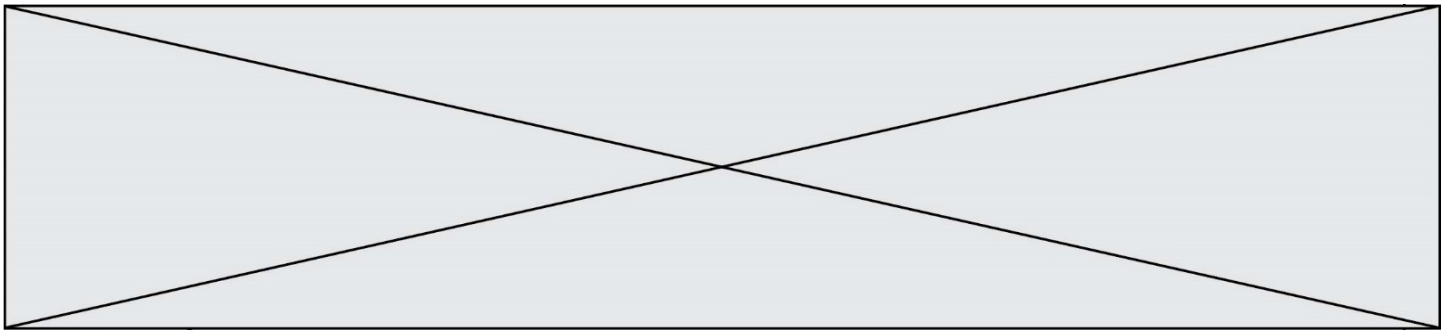
Partie B

On s'intéresse désormais à la datation au carbone 14 d'échantillons d'ivoire plus récents. Sur une période de 100 ans, on peut approcher la portion de courbe du document 2 par un segment de droite représenté dans le document 3 ci-dessous.

6- En 2019, l'analyse d'un échantillon d'ivoire d'éléphant a permis d'estimer à 0,994 la proportion d'atomes de carbone 14 restants par rapport au nombre initial d'atomes de carbone 14.

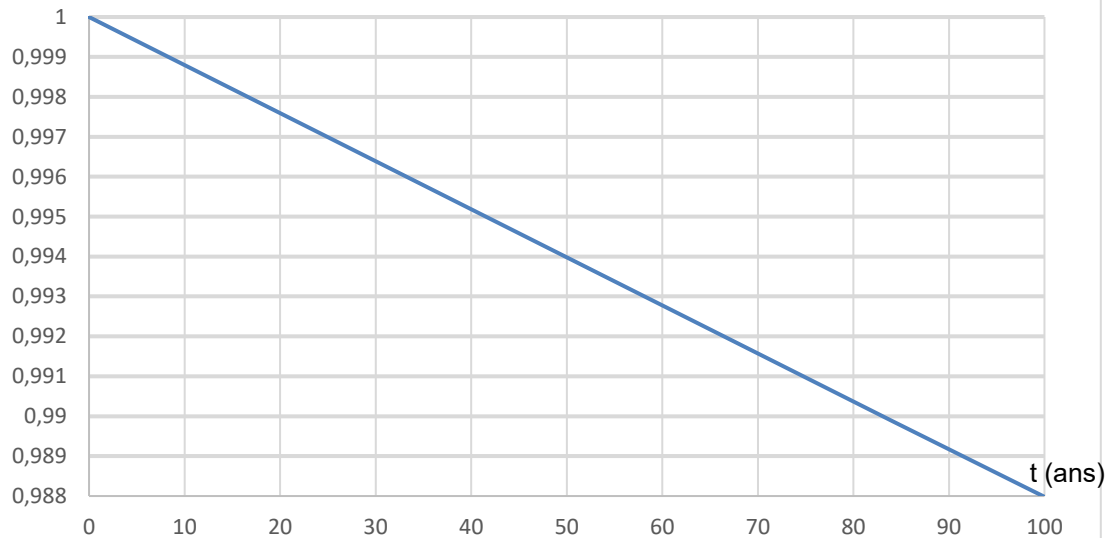
6-a- En utilisant le document 3, dater la mort de l'éléphant.

6-b- Cet ivoire provient-il d'un éléphant abattu illégalement ? Justifier la réponse.



Document 3 : décroissance radioactive du carbone 14 sur 100 ans.

Proportion du nombre d'atomes de carbone 14 restants par rapport au nombre d'atomes de carbone 14 au départ.



7- L'objectif des trois sous-questions suivantes est d'étudier la validité du modèle affine présenté dans le document 3 pour un nombre d'années supérieur à 100.

7-a- On note f la fonction affine ayant pour représentation graphique la droite du document 3. Parmi les expressions suivantes, dans lesquelles t est exprimé en années choisir celle de f :

- a) $f(t) = -1,2 \times 10^{-4} t + 1$
- b) $f(t) = 1,2 \times 10^{-4} t + 1$
- c) $f(t) = -8,3 \times 10^2 t + 1$

7-b- Calculer $f(5730)$.

7-c- Expliquer pourquoi on peut en déduire que ce modèle n'est pas pertinent pour des durées comparables à une demi-vie.

Modèle CCYC : ©DNE

Nom de famille (naissance) :


(Suivi s'il y a lieu, du nom d'usage)

Prénom(s) :

N° candidat : N° d'inscription :

(Les numéros figurent sur la convocation.)

Né(e) le : / /

 Liberté • Égalité • Fraternité
RÉPUBLIQUE FRANÇAISE

1.1

ANNEXE A RENDRE AVEC LA COPIE

EXERCICE 2 : LA DATATION AU ^{14}C ET LA PROTECTION DES ELEPHANTS

Question 4

Document 2 : courbe de décroissance du carbone 14 sur 40 000 ans.

