

Modèle CCYC : ©DNE

Nom de famille (naissance) :

(Suivi s'il y a lieu, du nom d'usage)

Prénom(s) :

N° candidat :

N° d'inscription :



Liberté • Égalité • Fraternité  
RÉPUBLIQUE FRANÇAISE

Né(e) le :

(Les numéros figurent sur la convocation.)

1.1

## ÉPREUVES COMMUNES DE CONTRÔLE CONTINU

**CLASSE** : Première

**E3C** :  E3C1  E3C2  E3C3

**VOIE** :  Générale  Technologique  Toutes voies (LV)

**ENSEIGNEMENT** : Enseignement scientifique

**DURÉE DE L'ÉPREUVE** : 2h

Niveaux visés (LV) : LVA                      LVB

Axes de programme :

**CALCULATRICE AUTORISÉE** :  Oui  Non

**DICTIONNAIRE AUTORISÉ** :  Oui  Non

Ce sujet contient des parties à rendre par le candidat avec sa copie. De ce fait, il ne peut être dupliqué et doit être imprimé pour chaque candidat afin d'assurer ensuite sa bonne numérisation.

Ce sujet intègre des éléments en couleur. S'il est choisi par l'équipe pédagogique, il est nécessaire que chaque élève dispose d'une impression en couleur.

Ce sujet contient des pièces jointes de type audio ou vidéo qu'il faudra télécharger et jouer le jour de l'épreuve.

**Nombre total de pages** : 8



## EXERCICE 1

### Le son : de l'analogique au numérique

L'industrie de la musique a connu au cours des dernières décennies de nombreuses évolutions (disque vinyle, CD, MP3, plateformes de musique en ligne). Ces évolutions sont dues au développement de la numérisation du son qui permet un stockage, une transmission et un accès plus aisés.

L'objectif de l'exercice est de comprendre l'influence de certains paramètres sur la qualité du son numérisé.

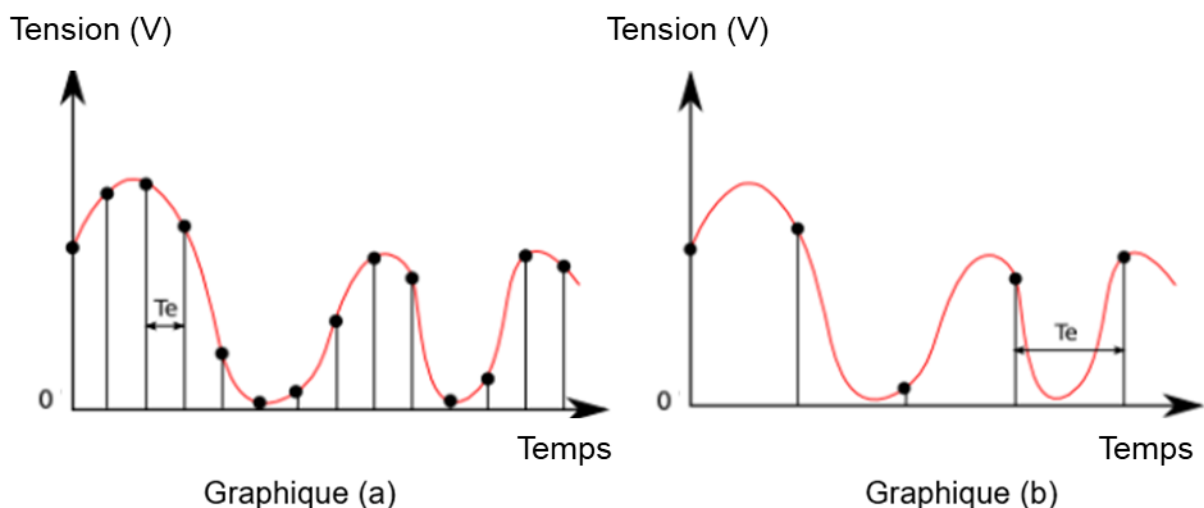
Document 1. Discrétisation du signal analogique d'un même son.

Pour numériser un son, on procède à la discrétisation du signal analogique sonore (échantillonnage et quantification), comme l'illustrent les graphiques ci-après.

Les échelles de tension et de temps sont les mêmes pour tous les graphiques.

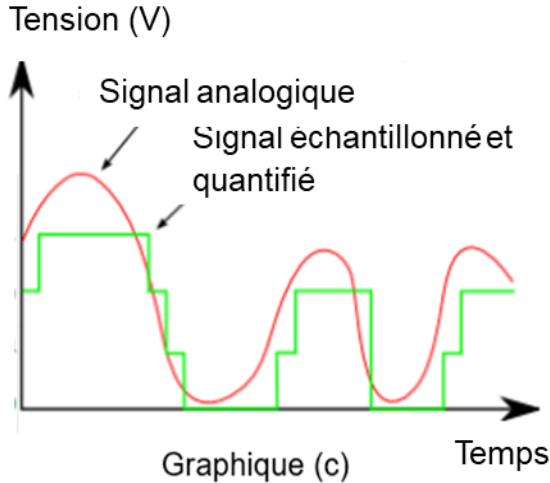
On note  $T_e$ , la période d'échantillonnage.

### Influence de l'échantillonnage

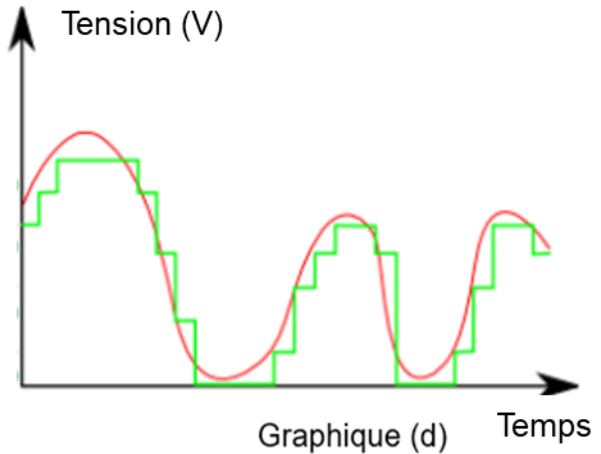




### Influence de la quantification



Ce signal numérisé et quantifié est ensuite numérisé sur 2 bits



Ce signal numérisé et quantifié est ensuite numérisé sur 3 bits

D'après <http://culturesciencesphysique.ens-lyon.fr>

Document 2. Caractéristiques de numérisation de signaux audio suivant l'application.

	Plage des fréquences transmises	Fréquence d'échantillonnage	Nombre de bits pour la quantification	Applications
Qualité téléphonie	300-3400 Hz	8 kHz	8	Téléphonie
Qualité bande élargie	50-7000 Hz	16 kHz	8	Audioconférence
Haute qualité	50-15000 Hz	32 kHz	14	Radiodiffusion
Qualité « Hi-Fi »	20-20000 Hz	44,1 kHz	16	CD audio

D'après Des données à l'information de Florent Chavand (ISTE éditions)



### Document 3. Taille d'un fichier numérique et taux de compression

La taille  $T$  d'un fichier audio numérique (en bit) peut être calculée à partir de la fréquence d'échantillonnage  $f_e$  (en Hertz), du nombre  $n$  de bits utilisés pour la quantification, de la durée  $\Delta t$  (en secondes) de l'enregistrement et du nombre  $k$  de voies ou canaux utilisés (1 en mono, 2 en stéréo...), à l'aide de la formule suivante :

$$T = f_e \times n \times \Delta t \times k$$

Le taux de compression est ici défini comme le rapport de la taille du fichier compressé sur la taille du fichier original.

1- À partir de l'exploitation des graphiques du document 1, recopier la ou les bonnes réponses pour chaque situation ci-dessous.

- La fréquence d'échantillonnage est plus élevée dans le cas du graphique (a) que dans le cas du graphique (b).
- Le son numérisé est plus fidèle au signal analogique dans la situation correspondant au graphique (b) que dans celle correspondant au graphique (a).
- Le fichier numérique correspondant à la situation du graphique (c) a une plus petite taille que le cas du graphique (d).
- Le son numérisé est plus fidèle au signal analogique dans la situation correspondant au graphique (c) que dans celle correspondant au graphique (d).

2- À partir de vos connaissances, indiquer la condition que doit vérifier la fréquence d'échantillonnage si on veut numériser fidèlement un son analogique sinusoïdal de fréquence  $f$ .

3- Justifier à partir des informations du document 2 que le choix de la fréquence d'échantillonnage permet une numérisation fidèle des sons sur un CD audio.

4- À partir de vos connaissances, donner l'intervalle des fréquences des sons audibles par les humains. Indiquer, en justifiant, si tous les sons correspondant à ces fréquences sont transmis lors d'une audioconférence numérisée.

5- Un morceau de musique de 4 minutes 27 secondes est enregistré en stéréo sur un CD audio. Justifier par un calcul que la taille du fichier enregistré est de 47 Mo.

Modèle CCYC : ©DNE																				
Nom de famille (naissance) : <small>(Suivi s'il y a lieu, du nom d'usage)</small>																				
Prénom(s) :																				
N° candidat :											N° d'inscription :									
 <small>Liberté • Égalité • Fraternité</small> <small>RÉPUBLIQUE FRANÇAISE</small>	<small>(Les numéros figurent sur la convocation.)</small>																			
	Né(e) le :			/			/													

1.1

6- Le format MP3 est un format de compression audio avec perte d'informations.

Si on admet que le taux de compression du format CD au format MP3 à 128 kbits/s est égal à 9%, calculer la taille du fichier MP3 à 128 kbits/s correspondant à l'enregistrement précédent.

7- Comparer, en termes d'avantages et d'inconvénients, les formats CD audio et MP3.

## EXERCICE 2

### Les minerais d'argent et leur exploitation

L'argent est connu depuis des millénaires et son utilisation pour des applications industrielles s'est fortement développée au XX<sup>ème</sup> siècle.

L'argent est l'élément chimique de numéro atomique  $Z = 47$  et de symbole Ag. À l'état métallique, il est blanc, très brillant, malléable ainsi que très ductile (c'est-à-dire qu'il peut être étiré sans se rompre).

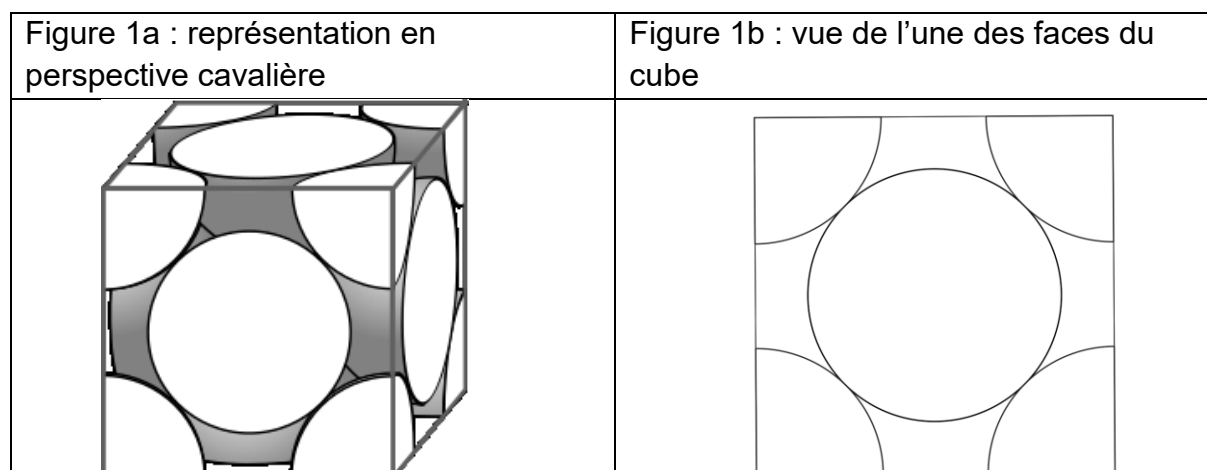
#### Données :

Nombre d'entités par mole :  $N = 6,022 \times 10^{23} \text{ mol}^{-1}$  ;

Rayon moyen d'un atome d'argent :  $r = 1,45 \text{ \AA}$ . L'angström (Å) est une unité de longueur utilisée en cristallographie (valant  $10^{-10} \text{ m}$ ).

#### Document 1. Maille élémentaire du cristal d'argent

À l'état microscopique, l'argent métallique solide est organisé selon un réseau cubique à faces centrées.

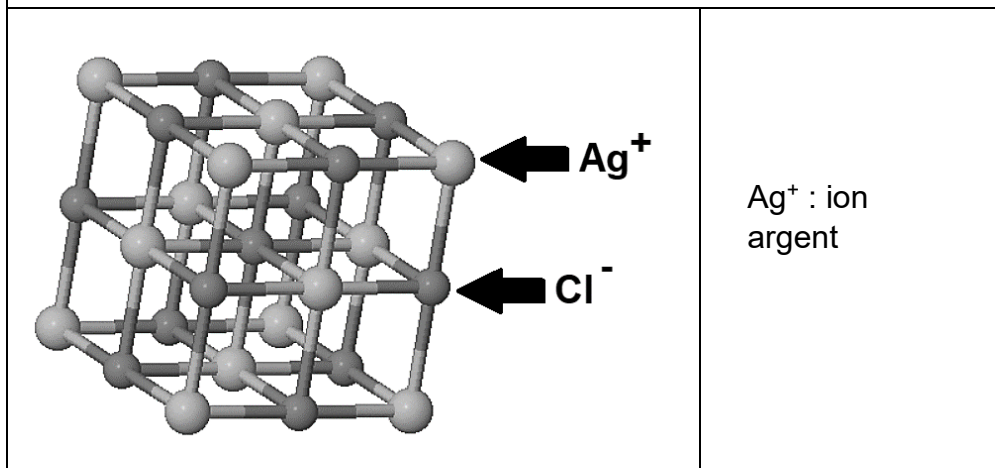




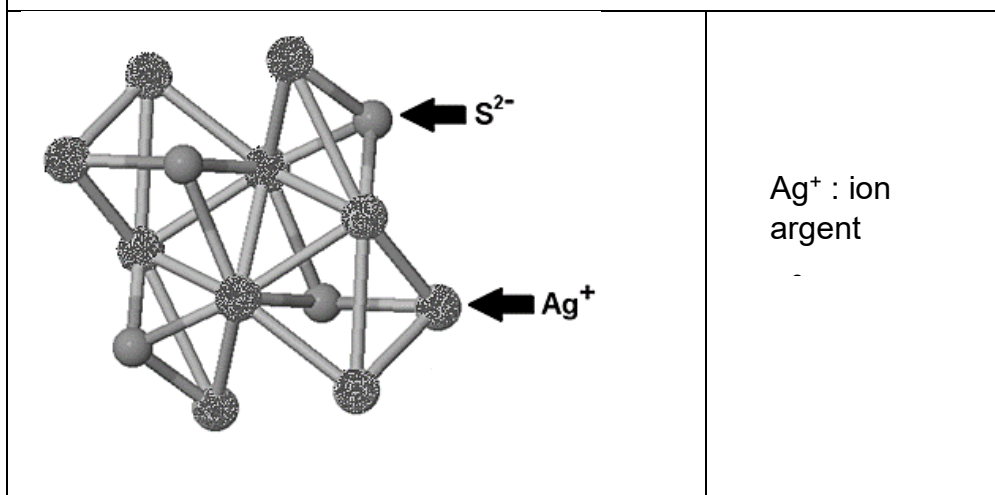
## Document 2. Les minerais d'argent

L'argent est rarement présent dans le sous-sol à l'état natif (pépite ou filon). Cependant dans les minerais, on le trouve souvent associé à d'autres éléments chimiques : par exemple, dans la chlorargyrite de formule  $\text{AgCl}$ , il est associé à l'élément chlore  $\text{Cl}$  ; dans l'acanthite de formule  $\text{Ag}_2\text{S}$ , il est associé à l'élément soufre  $\text{S}$ .

**Figure 2a : maille élémentaire de la chlorargyrite**



**Figure 2b : maille élémentaire de l'acanthite**



Modèle CCYC : ©DNE

Nom de famille (naissance) :

(Suivi s'il y a lieu, du nom d'usage)

Prénom(s) :

N° candidat :  N° d'inscription :

(Les numéros figurent sur la convocation.)

Né(e) le :  /  /

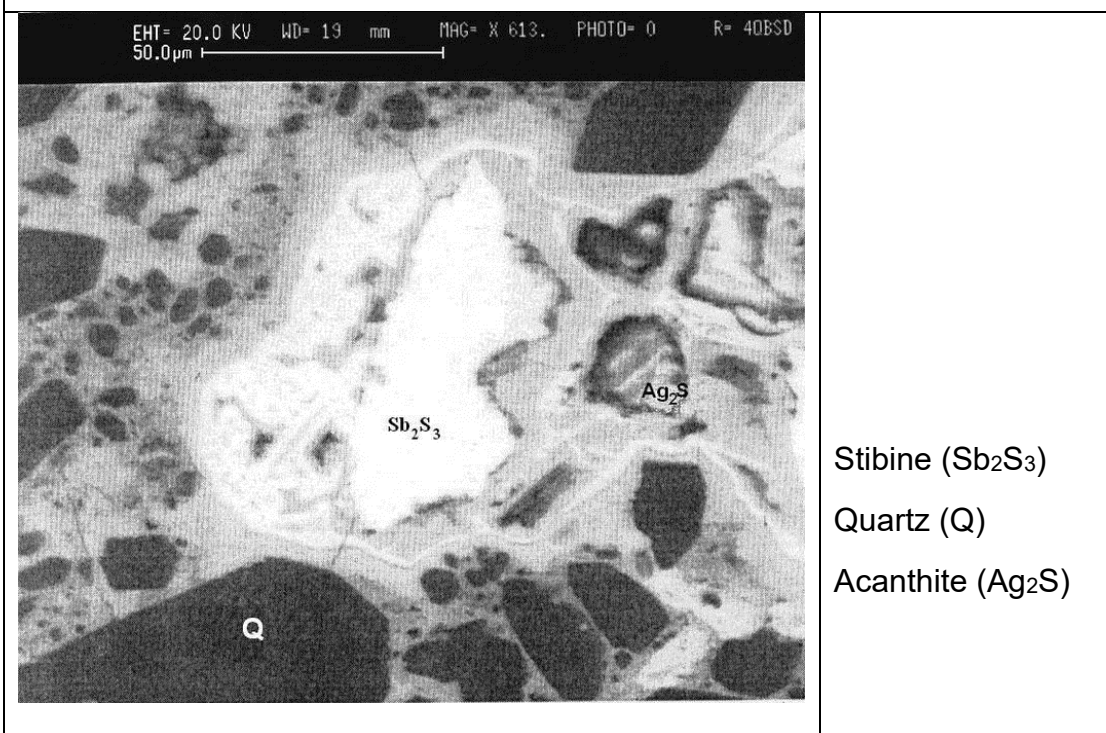
 Liberté • Égalité • Fraternité  
RÉPUBLIQUE FRANÇAISE

1.1

### Document 3. Analyse d'un échantillon du gisement minier d'Ain-Kerma

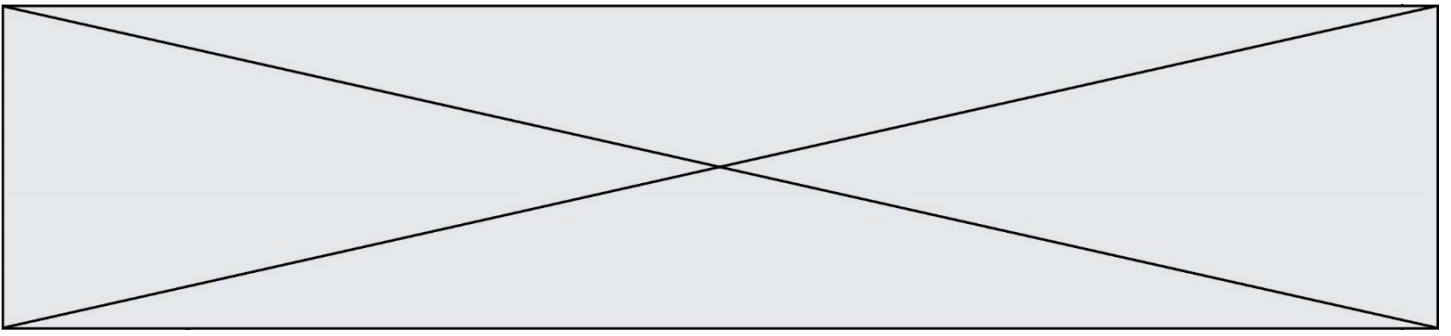
Le gisement minier d'Ain-Kerma est situé en Algérie à 15 km au Nord-Ouest de la ville de Constantine. Il a été activement exploité de 1913 à 1951 pour son minerai contenant 40 % d'antimoine de symbole chimique Sb.

Figure 3 : Echantillon de minerai observé microscopie électronique MEB)



D'après : [https://www.researchgate.net/publication/279533102\\_Testing\\_of\\_Silver\\_Sulphide\\_in\\_Antimony\\_Mineralization\\_Hydrothermal\\_Karst\\_Formations\\_Ain-Kerma](https://www.researchgate.net/publication/279533102_Testing_of_Silver_Sulphide_in_Antimony_Mineralization_Hydrothermal_Karst_Formations_Ain-Kerma)

- 1- En utilisant la figure 1a, montrer en explicitant la démarche que le nombre d'atomes contenus dans une maille élémentaire du cristal d'argent est égal à 4.
- 2- En utilisant la figure 1b et en notant  $a$  le paramètre de maille du cristal d'argent (égal à la longueur de l'arête du cube), démontrer que  $\sqrt{2}a = 4r$ . En déduire que  $a = 4,10 \text{ \AA}$ .
- 3- Calculer la compacité du cristal d'argent et en déduire que 26 % de la maille élémentaire est vide. On rappelle que la compacité d'un cristal est égale au rapport du volume des atomes contenus dans une maille élémentaire par le volume de cette maille.



**4-** La masse volumique de l'argent sous forme cristalline vaut approximativement  $10,5 \times 10^3 \text{ kg} \cdot \text{m}^{-3}$ . Calculer la masse d'un atome d'argent après avoir déterminé le volume d'une maille du cristal.

**5-** La chlorargyrite et l'acanthite sont des cristaux. Préciser le sens du mot cristal et donner un exemple d'un autre mode d'organisation de la matière solide à l'échelle microscopique.

**6-** Expliquer pourquoi le minerai d'Ain-Kerma peut être qualifié de roche et pourquoi cette roche peut être qualifiée d'argentifère.