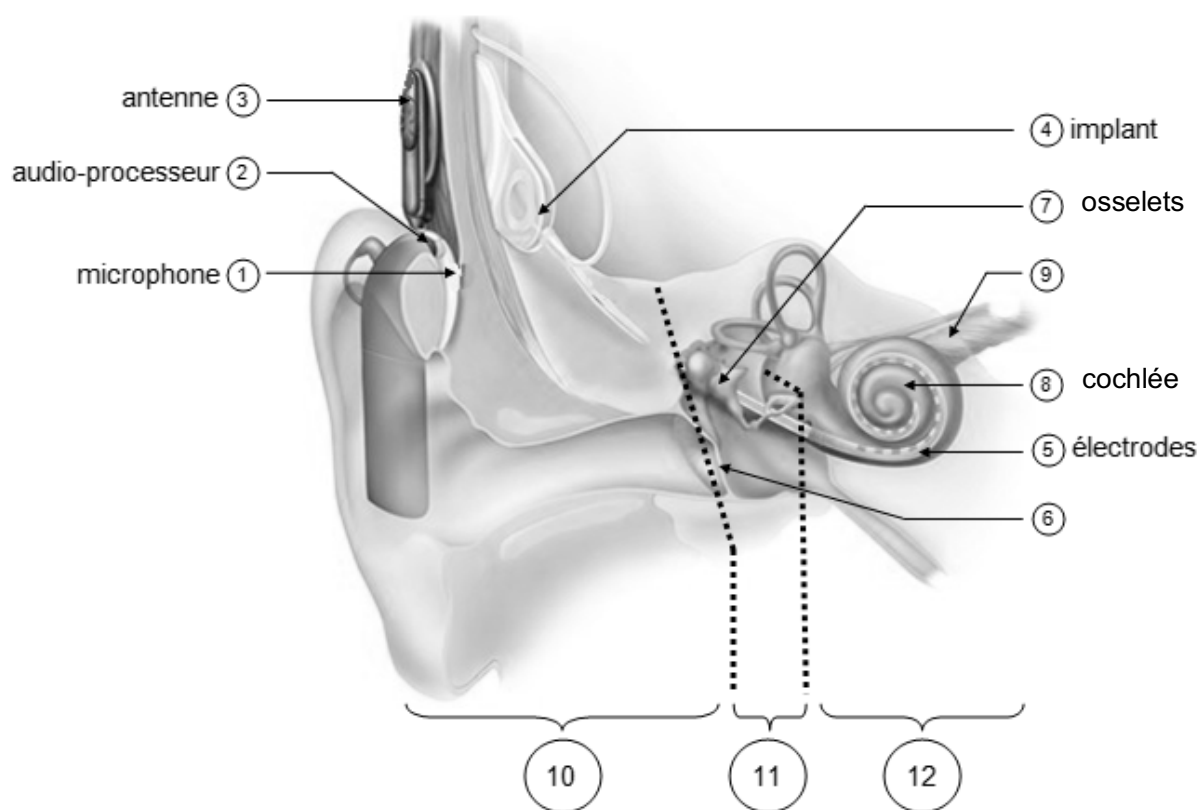


EXERCICE 1 IMPLANT COCHLÉAIRE

L'implant cochléaire est un dispositif auditif destiné aux personnes atteintes d'une surdité sévère ou profonde. Il transforme les sons en signaux électriques envoyés directement au nerf auditif grâce à des électrodes posées chirurgicalement.

Document 1. Fonctionnement d'un implant cochléaire



Modifié d'après : <https://idataresearch.com/cascination-and-med-el-collaborate-on-state-of-the-art-cochlear-implantation-method/>

Le microphone ① capte les sons en provenance de l'extérieur. L'audio-processeur ② numérise les sons. L'antenne ③ transmet les signaux numériques à l'implant situé sous la peau. L'implant ④ envoie des signaux électriques dans les électrodes ⑤ situées dans la cochlée (comprenant les cellules sensorielles ciliées) ⑧. Les fibres du nerf auditif captent les signaux électriques et les transmettent au cerveau.



4- Déterminer graphiquement la valeur de la période d'échantillonnage T_e utilisée pour cette numérisation puis justifier que la valeur de la fréquence d'échantillonnage f_e est égale à 10 000 Hz.

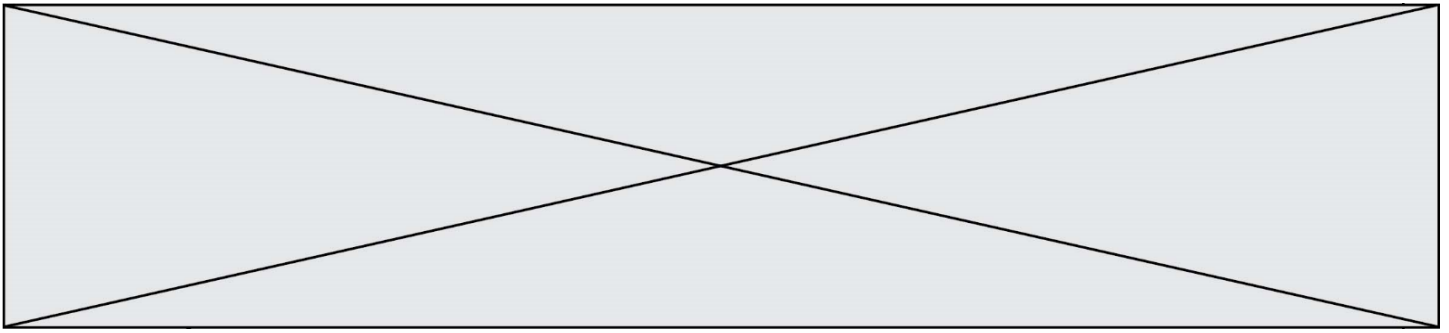
5-a- Sachant qu'une quantification sur n bits permet 2^n paliers numériques, indiquer, en le justifiant, pourquoi ici $n=3$.

5-b- La taille L en octet d'un fichier audio est donnée par la formule :

$$L = f_e \times \frac{n}{8} \times \Delta t$$

avec : f_e = fréquence d'échantillonnage (en Hertz) ; n = quantification (en bit) ; Δt = durée (en seconde).

Pendant une journée, l'audio-processeur numérise en moyenne 10 heures de sons différents. Calculer la taille L d'un fichier audio équivalent à une journée de fonctionnement de l'implant cochléaire.



Avec λ_{\max} en mètre et T en Kelvin.

- relation entre température Θ en degré Celsius ($^{\circ}\text{C}$) et température T en Kelvin (K) :
 $\Theta = T - 273,15$
- La longueur d'onde correspondante à l'intensité lumineuse maximale pour le Soleil est
 $\lambda_{\max} = 500 \text{ nm}$.

À partir de vos connaissances et des informations apportées par les documents, répondre aux questions suivantes.

2- Indiquer si la température de surface de l'étoile Véga est supérieure ou inférieure à celle du Soleil. Justifier votre réponse.

3- Recopier sur votre copie la proposition la plus juste parmi les suivantes et justifier votre réponse.

La température de surface de l'étoile Véga vaut environ :

- 750 K
- 7500 K
- 7200 $^{\circ}\text{C}$
- 72000 $^{\circ}\text{C}$

4- L'énergie nécessaire à la production de biomasse par les animaux provient indirectement du Soleil. Justifier cette affirmation en s'appuyant sur des informations extraites des documents 2 et 3 ainsi que de vos connaissances.

La réponse ne doit pas excéder une page.

Document 3. Représentation schématique des flux d'énergie et de matière organique (biomasse) dans un écosystème.

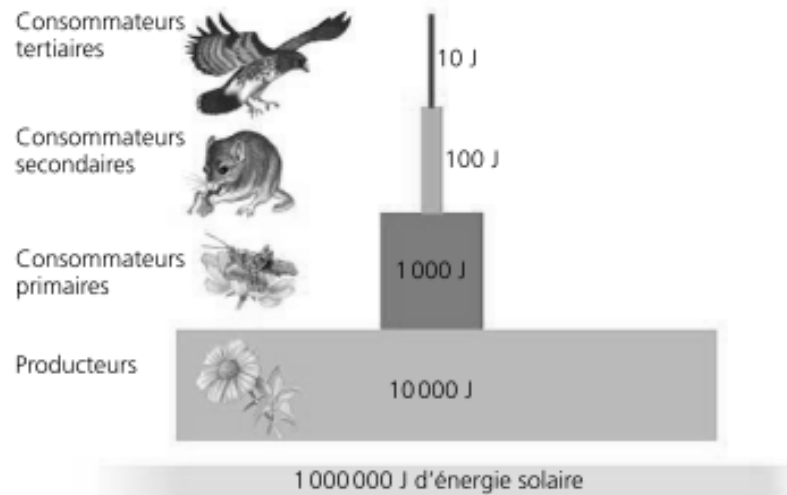


Figure 1 : une pyramide énergétique dans un écosystème terrestre
 Les différents maillons d'un réseau trophique sont positionnés verticalement en fonction de leur place fonctionnelle (des producteurs primaires à la base aux consommateurs tertiaires en haut). Dans cet exemple d'écosystème, environ 10 % de l'énergie disponible à chaque niveau trophique sont convertis en nouvelle biomasse au niveau suivant, ce qui représente une efficacité trophique de 10 %.

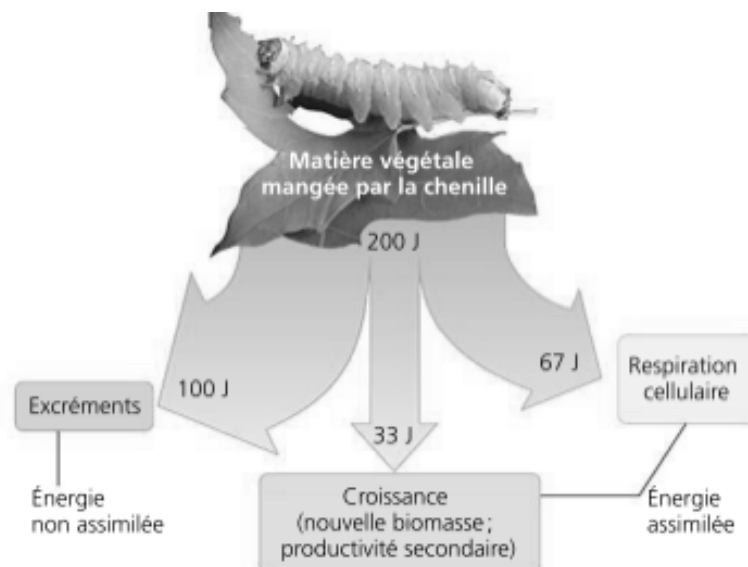


Figure 2 : la répartition de l'énergie dans un niveau de chaîne trophique.
 Moins de 17 % de la nourriture d'une chenille sert réellement à la production de biomasse (croissance). D'après *Biologie*, Reece et al. (4^eed).