

## EXERCICE 1 LA LUMIERE CENDRÉE DE LA LUNE

Périodiquement la Lune nous présente un aspect des plus surprenants. En plus d'une partie fortement lumineuse correspondante à la phase lunaire, il est possible d'apercevoir l'autre partie de la Lune. La lumière qui nous parvient de cette partie plus sombre est appelée « lumière cendrée de la Lune » (voir la photographie).



### Document 1. Observations de Galilée

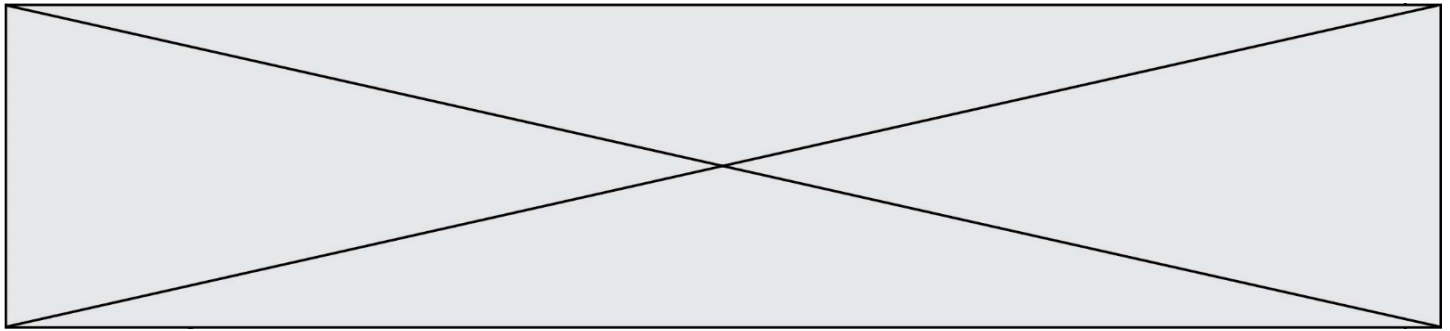
« Je veux noter aussi un fait que j'ai observé, non sans un certain émerveillement : presque au centre de la Lune se trouve une cavité plus grande que toute autre et parfaitement circulaire [...] : dans son obscurcissement et dans son illumination, elle présenterait le même aspect que celui de la Terre dans une région comparable à la Bohème, si cette région était de tous côtés entourés de hautes montagnes et disposée en cercle parfait. Dans la lune, en effet, la cavité est entourée de cimes si élevées que la région extrême, attenante à la partie ténébreuse, se voit illuminée par les rayons solaires, avant que la ligne de partage entre la lumière et l'ombre atteigne le diamètre de la figure elle-même [...] ».

*Galilée, Sidereus Nuncius, trad. de E. Namer, Paris : Gauthier-Villars, p. 73 sq.*

« Chacun peut se rendre compte avec la certitude des sens, que la Lune est dotée d'une surface non point lisse et polie, mais faite d'aspérités et de rugosités, et que tout comme la face de la Terre elle-même, elle est toute en gros renflements, gouffres profonds et courbures. »

*Galilée, Sidereus Nuncius, trad. de E. Namer, Paris : Gauthier-Villars, 1964, p. 116*





splendeur sans en comprendre la cause. Et il fallut attendre le 16e siècle pour que Léonard de Vinci la comprenne.

Aujourd'hui, la réponse nous paraît évidente. Quand le Soleil se couche sur la Lune, il se produit exactement la même chose que sur Terre : c'est la nuit. Mais pas une nuit noire... Même quand le Soleil est couché, il y a encore une source de lumière dans la nuit lunaire : la Terre bien sûr !

D'après [https://www.cidehom.com/science\\_at\\_nasa.php?\\_a\\_id=224](https://www.cidehom.com/science_at_nasa.php?_a_id=224)

### Document 3. Calendrier du premier semestre 2021

Les disques noirs représentent les dates de nouvelle Lune et les disques blancs la pleine Lune. Ces dates ont été effacées pour le mois de juin.

Janvier	Février	Mars	Avril	Mai	Juin
1 V Jour de l'An	1 L Ella 05	1 L Aubin 09	1 J Hugues	1 S Fête du Travail	1 M Justin
2 S Basile	2 M Chandeleur	2 M Charles le B.	2 V Sandrine	2 D Boris	2 M Blandine
3 D Épiphanie	3 M Blaise	3 M Guénohé	3 S Richard	3 L Phil., Jacq. 18	3 J Kévin
4 L Odilon 01	4 J Véronique	4 J Casimir	4 D Pâques	4 M Sylvain	4 V Clotilde
5 M Edouard	5 V Agathe	5 V Olive	5 L Lundi de Pâques 14	5 M Judith	5 S Igor
6 M Balthazar	6 S Gaston	6 S Colette	6 M Marcellin	6 J Prudence	6 D Norbert
7 J Raymond	7 D Eugénie	7 D Félicité	7 M Jean-B. de la Salle	7 V Gisèle	7 L Gilbert 23
8 V Lucien	8 L Jacqueline 06	8 L Jean de Dieu 10	8 J Julie	8 S Victoire 1945	8 M Médard
9 S Alx	9 M Apolline	9 M Françoise	9 V Gautier	9 D Pacôme	9 M Diane
10 D Guillaume	10 M Arnaud	10 M Vivien	10 S Fulbert	10 L Solange 19	10 J Landry
11 L Paulin 02	11 J N.-D. Lourdes	11 J Rosine	11 D Stanislas	11 M Estelle	11 V Barnabé
12 M Tatiana	12 V Félix	12 V Justine	12 L Jules 15	12 M Achille	12 S Guy
13 M Yvette	13 S Béatrice	13 S Rodrigue	13 M Ida	13 J Ascension	13 D Antoine de P.
14 J Nina	14 D Valentin	14 D Mathilde	14 M Maxime	14 V Matthias	14 L Elisée 24
15 V Rémi	15 L Claude 07	15 L Louise 11	15 J Paterne	15 S Denise	15 M Germaine
16 S Marcel	16 M Mardi gras	16 M Bénédicte	16 V Benoît-Joseph	16 D Honoré	16 M Aurélien
17 D Roseline	17 M Alexis	17 M Patrice	17 S Anicet	17 L Pascal 20	17 J Hervé
18 L Prisca 03	18 J Bernadette	18 J Cyrille	18 D Parfait	18 M Éric	18 V Léonce
19 M Marius	19 V Gabin	19 V Joseph	19 L Emma 16	19 M Yves	19 S Romuald
20 M Sébastien	20 S Aimée	20 S Alessandra	20 M Odette	20 J Bernardin	20 D Fête des Pères
21 J Agnès	21 D P. Damien	21 D Clémence	21 M Anselme	21 V Constantin	21 L Rodolphe 25
22 V Vincent	22 L Isabelle 08	22 L Léa 12	22 J Alexandre	22 S Emile	22 M Alban
23 S Barnard	23 M Lazare	23 M Victorien	23 V Georges	23 D Pentecôte	23 M Audrey
24 D Fr. de Sales	24 M Modeste	24 M Cath. de Suède	24 S Fidèle	24 L Lundi de Pentecôte 21	24 J Jean-Baptiste
25 L Conv. S. Paul 04	25 J Roméo	25 J Humbert	25 D Marc	25 M Sophie	25 V Prosper
26 M Paule	26 V Nestor	26 V Larissa	26 L Alida 17	26 M Bérenger	26 S Annelme
27 M Angèle	27 S Honorine	27 S Habib	27 M Zita	27 J Augustin	27 D Fernand
28 J Th. d'Aquin, Maureen	28 D Romain	28 D Rameaux	28 M Jour du Souv.	28 V Germain	28 L Irénée 26
29 V Gildas		29 L Gwladys 13	29 J Cath. de St.	29 S Aymar	29 M Pierre, Paul
30 S Martine		30 M Amédée	30 V Robert	30 D Fête des Mères	30 M Martial
31 D Marcelle		31 M Benjamin		31 L Veitacion 22	

Source : <https://www.lecalendrier.fr/>

### 1- Les observations de Galilée (document 1)

1-a- Pour les deux situations (notées Situation 1 et Situation 2) dessinées par Galilée sur la figure 1, représenter sur un schéma les positions de la Terre, de la Lune et du Soleil.

Modèle CCYC : ©DNE

Nom de famille (naissance) :

(Suivi s'il y a lieu, du nom d'usage)

Prénom(s) :

N° candidat :  N° d'inscription :

(Les numéros figurent sur la convocation.)

Né(e) le :  /  /

Liberté • Égalité • Fraternité  
RÉPUBLIQUE FRANÇAISE

1.1

1-b- Dessiner ce que Galilée aurait observé dans les deux situations de la figure 1 si la surface de la Lune était parfaitement lisse.

1-c- Galilée a pu aisément comparer les observations qu'il a réalisées à différents moments de l'année parce que la Lune présente toujours la même face à la Terre.

Voici plusieurs propositions pour expliquer ce phénomène :

- (a) la Lune tourne sur elle-même avec la même période que celle de son mouvement de rotation autour du Soleil ;
- (b) la Lune tourne sur elle-même avec la même période que celle de son mouvement de rotation autour de la Terre ;
- (c) la Lune ne tourne pas sur elle-même tout en tournant autour de la Terre,
- (d) la Lune reste fixe dans le ciel pour un observateur terrestre.

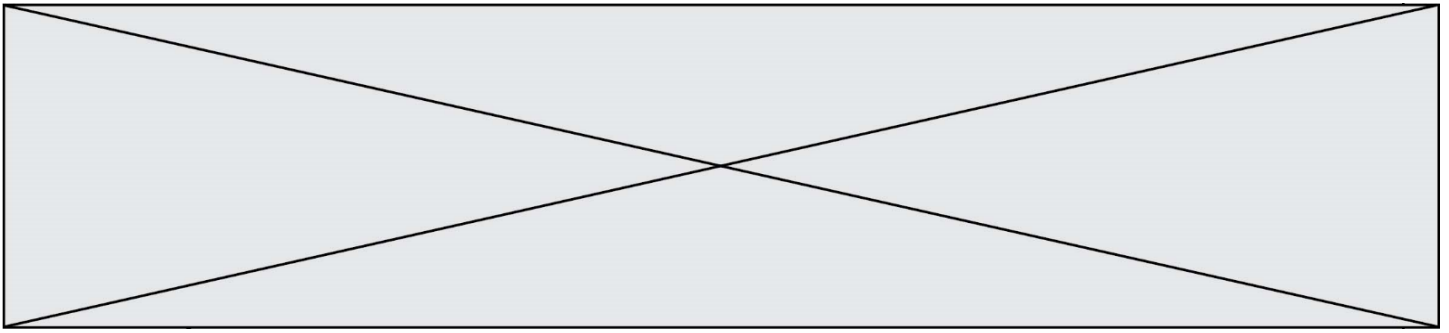
Recopier sur votre copie la bonne explication ; justifier votre réponse en vous appuyant sur un schéma clair.

## 2- Les observations de Léonard de Vinci

2-a- Schématiser, sans souci d'échelle, les positions relatives de la Lune, du Soleil et de la Terre dans la situation décrite par Léonard de Vinci dans le document 2.

2-b- À partir du document 2 et du schéma réalisé dans la question précédente, expliquer comment un individu, sur Terre, peut observer la lumière cendrée de la Lune.

2-c- Expliquer en quoi l'observation de la lumière cendrée montre que l'albedo de la Terre n'est pas nul.



### 3- Période favorable à l'observation de la lumière cendrée

3-a- À partir des données figurant sur le calendrier du document 3, calculer la durée moyenne, en jour, de l'intervalle de temps qui sépare deux pleines lunes successives.

3-b- En décrivant avec précision le raisonnement utilisé, déterminer une période de 10 jours *a priori* favorables à l'observation de la lumière cendrée pendant le mois de juin 2021.

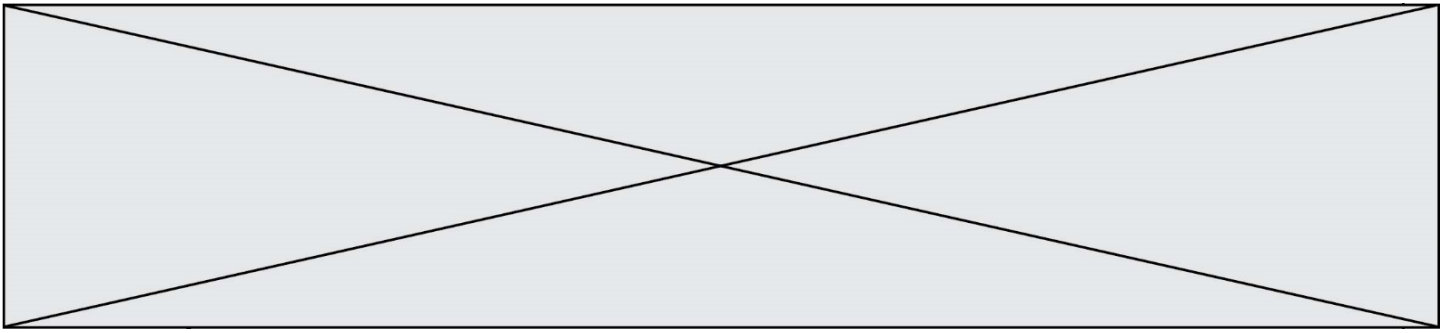
## **EXERCICE 2**

### **LES STRUCTURES MICROSCOPIQUES DE LA SILICE ET DU SILICIUM**

La silice est la forme naturelle du dioxyde de silicium ( $\text{SiO}_2$ ) qui entre dans la composition de nombreux minéraux (quartz, etc.). La silice représente 60,6 % de la masse de la croûte terrestre continentale. De nombreuses roches sont constituées de silice (sable, grès, granite, etc.) et l'étude des différentes structures possibles permet d'en savoir plus sur les conditions de formation des roches.

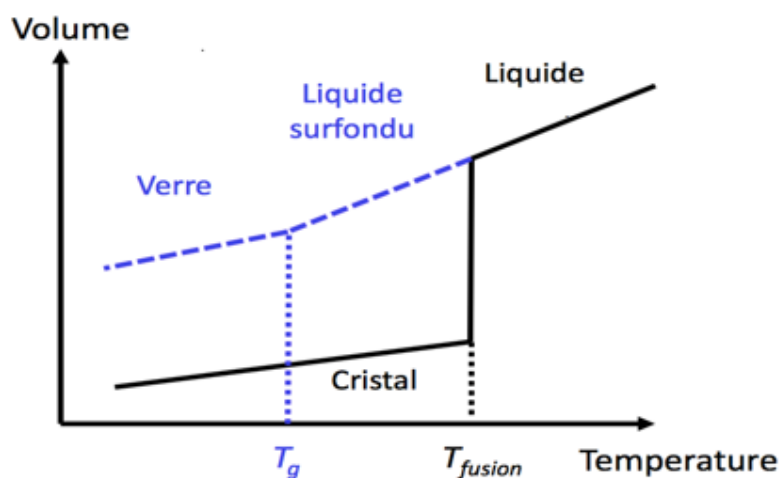
Le verre utilisé dans l'industrie est un solide non cristallin (amorphe), dur, fragile (cassant) et transparent. Sa composition chimique contient une part importante de silice.





À partir de deux échantillons identiques de silice liquide, on peut obtenir soit un verre, soit un cristal selon la vitesse de refroidissement.

Document 2. Évolution du volume d'un échantillon de silice lors d'un changement d'état.



Température de transition vitreuse :  
 $T_g = 1473 \text{ K}$

Température de fusion :  
 $T_{\text{fusion}} = 1996 \text{ K}$

2- Comparer qualitativement les volumes des deux échantillons obtenus (verre ou cristal) à la température de 1400 K.

3- Proposer une explication à cette différence de volume en s'appuyant sur le document 1.

### Partie B. Étude de la maille cristalline du silicium

On s'intéresse dans cette partie au silicium pur. On fait l'hypothèse que la structure cristalline du silicium est cubique à faces centrées, avec les caractéristiques suivantes :

Rayon d'un atome de silicium :  $r = 118 \times 10^{-12} \text{ m}$

Masse d'un atome de silicium :  $m = 4,66 \times 10^{-26} \text{ kg}$

4- Le but de cette partie est de déterminer la masse volumique du silicium afin de valider ou d'invalider l'hypothèse formulée sur sa structure (cubique à faces centrées).



