

Contexte

Le stress chronique peut entraîner l'apparition de symptômes d'anxiété dus à une augmentation de l'activité électrique des neurones de certaines zones cérébrales. Normalement, l'activité de ces neurones est régulée par le GABA, un neurotransmetteur qui se fixe sur des récepteurs localisés sur les corps cellulaires et les prolongements des neurones dont il inhibe le fonctionnement. Les médicaments de la famille des benzodiazépines (par exemple le diazépam) contribuent à diminuer les symptômes d'anxiété.

On cherche à déterminer comment le diazépam participe à la diminution des symptômes d'anxiété liés au stress chronique.

Consignes

Partie A : Appropriation du contexte et activité pratique (durée recommandée : 30 minutes)

La stratégie adoptée consiste à repérer les corps cellulaires des neurones cérébraux afin de **localiser** l'emplacement probable des récepteurs GABA et à **traiter** un modèle moléculaire de ce récepteur en présence de diazépam.

Appeler l'examineur pour vérifier les résultats de la mise en œuvre du protocole.

Partie B : Communication des résultats, interprétation, poursuite de la stratégie (durée recommandée : 30 minutes)

Présenter et traiter les résultats obtenus, sous la forme de votre choix et les **interpréter**.

Répondre sur la fiche-réponse candidat, appeler l'examineur pour vérification de votre production et obtenir une ressource complémentaire.

Proposer une poursuite de stratégie permettant de préciser la conséquence de la fixation du diazépam sur le fonctionnement des neurones cérébraux.

Appeler l'examineur pour formaliser votre proposition à l'oral et obtenir une ressource complémentaire.

Conclure à partir de l'ensemble des données, sur la manière dont le diazépam participe à la diminution des symptômes d'anxiété liés au stress chronique.

Protocole

Matériel :

- 1 microscope optique + dispositif de capture numérique ;
- lames et lamelles ;
- 1 aiguille lancéolée ;
- 1 verre de montre ;
- 1 feuille de papier filtre ;
- 1 cervelle de mouton ou de veau ;
- bleu de méthylène ;
- 1 lame de rasoir ou scalpel ;
- 1 chronomètre ;
- logiciel de modélisation moléculaire et sa fiche technique ;
- modèle moléculaire :
Recepteur_GABA_avec_GABA_e
t_DIAZEPAM.pdb.

Étapes du protocole à réaliser :

- **réaliser un montage lame-lamelle selon le protocole suivant :**
 1. **découper** une tranche fine de cervelle à l'aide d'une lame de rasoir ou d'un scalpel ;
 2. **déposer** la tranche fine dans un verre de montre et la **recouvrir** de bleu de méthylène ;
 3. **attendre** 5 à 10 minutes ;
 4. **prélever** à l'aide de l'aiguille lancéolée un petit morceau de la tranche colorée au bleu de méthylène ;
 5. **réaliser** un montage lame-lamelle et **observer** au microscope ;
- **étudier le modèle moléculaire selon le protocole suivant :**
 1. à l'aide du logiciel de modélisation moléculaire, **localiser** le GABA sur son récepteur ;
 2. à l'aide du logiciel de modélisation moléculaire, **localiser** le diazépam sur le récepteur GABA ;

Code des molécules :

ABU = molécule de GABA

DZP = molécule de diazépam

Sécurité :



Nocif ou irritant

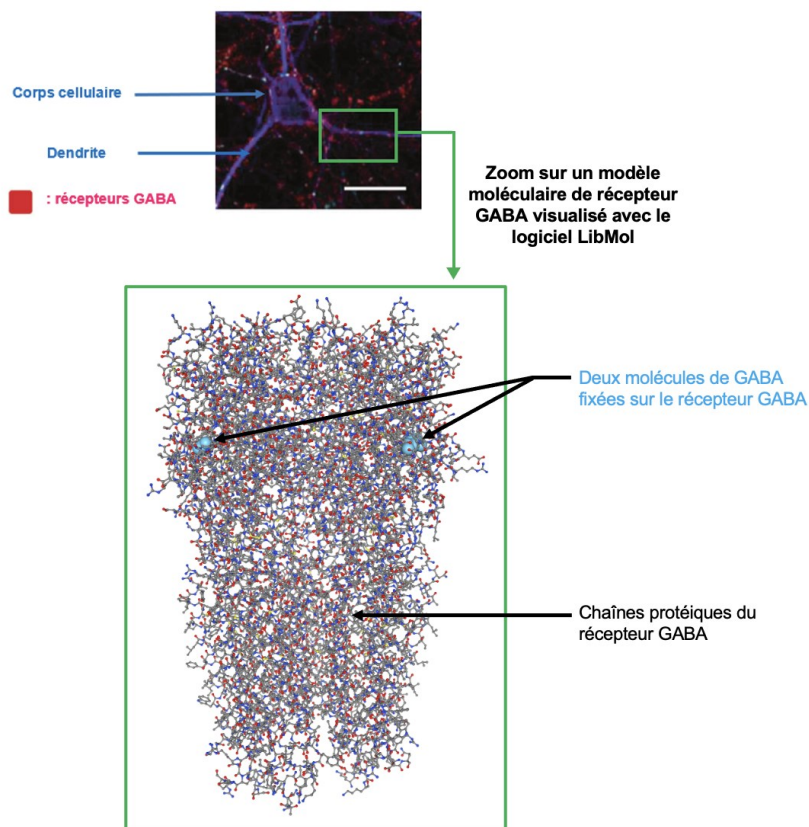
Précautions de la manipulation :



Ressources

Localisation des récepteurs GABA au niveau de neurones par la technique d'immunohistochimie et modèle moléculaire d'un récepteur GABA :

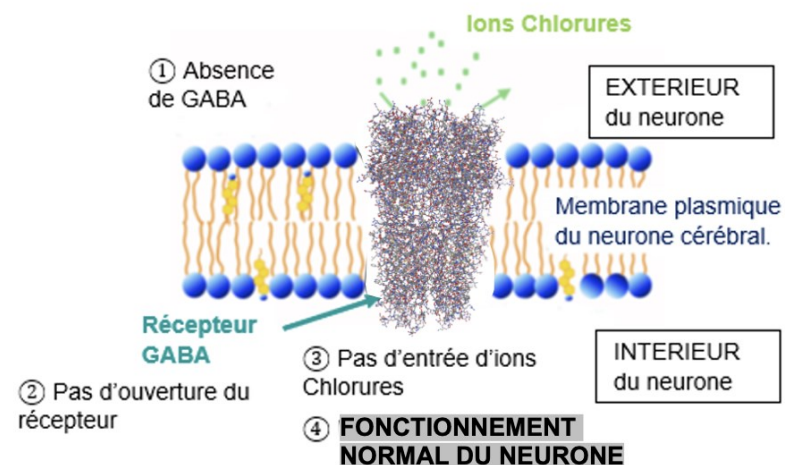
La technique d'immunohistochimie consiste à marquer par un système fluorescent (ici en rouge) des anticorps anti-récepteur GABA. Ceux-ci se fixent uniquement sur les récepteurs GABA, ce qui permet de localiser leur emplacement.



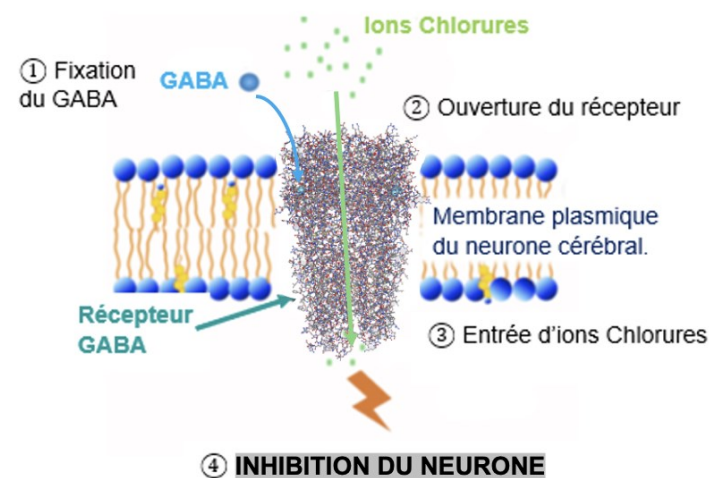
D'après Nicholson, Sweeney and al, 2018

Mode d'action du GABA sur son récepteur :

A- Fonctionnement du récepteur GABA en absence de GABA



B- Fonctionnement du récepteur GABA en présence de GABA



D'après vieterre.fr